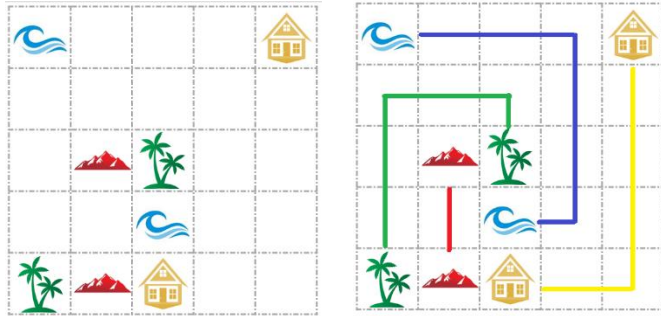



23-24 數學科壁報——數學智多星 (第二回合)



一年級



玩具熊迷路了。請將畫面中相同圖案的兩個點連起來，同時每條連線不能交錯與重疊，並且需要將畫面的格子填滿。












二年級

 = 7

 = 5 + 

 = 1 + 

你到狸克的商店買水果，如果你想要買 、 和 ，共需付多少元？

 = 7 ;  = 6 ;  = 4
 +  +  = 17

三年級

小潤不小心摔了一跤，他的時鐘破裂成三塊碎片，每一塊的數字的和都剛好相等，請問這個時鐘裂成了甚麼樣子呢？

